

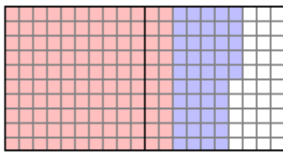
Nom : _____ Date : _____

Sommes et différences avec des nombres décimaux

Questions d'évaluation

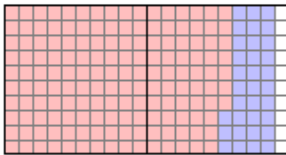
Cocher : Pré test Post test

1. Quel problème d'addition est modélisé dans la grille suivante?



- A. $1,5 + 0,15 = 1,65$
- B. $1,45 + 0,2 = 1,65$
- C. $1,25 + 0,4 = 1,65$
- D. $1,2 + 0,45 = 1,65$

2. Quel problème de soustraction est modélisé dans la grille suivante?



- A. $1,57 - 0,33 = 1,24$
- B. $1,9 - 0,33 = 1,57$
- C. $1,9 - 0,37 = 1,53$
- D. $2 - 0,1 = 1,9$


3. Quel est le résultat de $1,33 + 0,4$?

- A. 1,37
- B. 1,77
- C. 4,33
- D. 1,73

4. Quel est le résultat de $2,45 - 0,37$?

- A. 2,08
- B. 2,82
- C. 2,8
- D. 2,28

5. Quel est le résultat de $4 - 3,78$?
- A. 0,22
 - B. 0,32
 - C. 1,22
 - D. 1,32

Ce gizmo est disponible sur  LearnAlberta.ca