

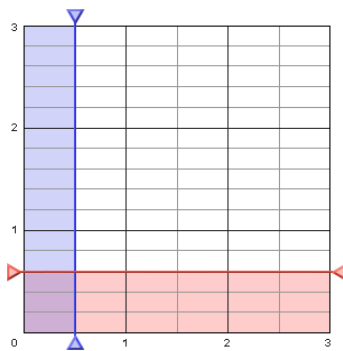
Nom : _____ Date : _____

Multiplication des fractions

Questions d'évaluation (5)

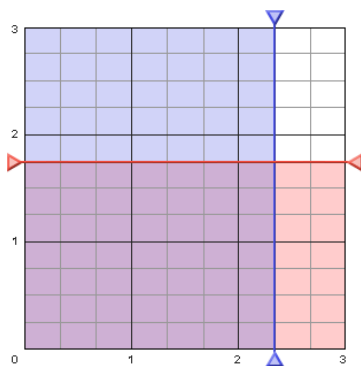
Cocher : Pré test Post test

1. Quelle équation de multiplication est modélisée ci-dessous?



- A.
- B.
- C.
- D.

2. Quelle équation de multiplication est modélisée ci-dessous?



- A.
- B.
- C.
- D.

3. Trouve $\frac{2}{3} \cdot \frac{5}{3}$. Simplifie si possible.

A. $\frac{7}{3}$

B. $\frac{6}{15}$

C. $\frac{10}{9}$

D. $\frac{10}{3}$

4. Trouve $\frac{8}{7} \cdot \frac{5}{4}$. Simplifie si possible.

A. $\frac{13}{11}$

B. $\frac{10}{7}$

C. $\frac{20}{7}$

D. $\frac{32}{35}$


5. Trouve $2\frac{1}{3} \cdot 1\frac{1}{14}$. Simplifie si possible.

A. $\frac{98}{45}$

B. $2\frac{1}{42}$

C. $3\frac{2}{17}$

D. $2\frac{1}{2}$

Ce gizmo est disponible sur  LearnAlberta.ca