

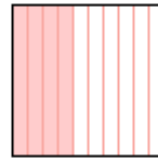
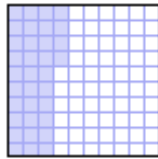

Nom : _____ Date : _____

Comparer et ordonner les décimales

Questions d'évaluation

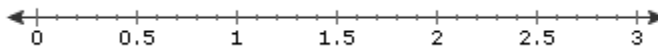
Cocher : Pré test Post test

1. Les grilles suivantes représentent les trois nombres décimaux 0,43; 0,34 et 0,4.
Dans lequel des choix proposés ci-dessous ces trois décimales sont-elles placées en ordre croissant ?



- A. 0,4; 0,43; 0,34
B. 0,4; 0,34; 0,43
C. 0,43; 0,4; 0,34
D. 0,34; 0,4; 0,43

2. Utilise la droite numérique ci-dessous pour t'aider à placer les nombres 2,4; 2,5; 1,7 et 1,5 en ordre. Où sont-ils correctement classés en ordre croissant ?



- A. 2,5; 2,4; 1,7; 1,5
B. 1,5; 1,7; 2,4; 2,5
C. 1,7; 1,5; 2,5; 2,4
D. 1,5; 1,7; 2,5; 2,4

3. Écris les nombres 0,4; 0,04 et 0,41 en ordre croissant.

- A. 0,04; 0,4; 0,41
B. 0,4; 0,04; 0,41
C. 0,04; 0,41; 0,4
D. 0,4; 0,41; 0,04

4. Le cours des actions pour cinq jours consécutifs est indiqué ci-dessous. Laquelle de ces affirmations ci-dessous est vraie à propos du cours des actions?

Lundi : - 0,56 \$
Mardi : - 0,65 \$
Mercredi : - 0,55 \$
Jeudi : - 0,70 \$
Vendredi : - 0,60 \$

- A. Le cours des actions a augmenté chaque jour.
B. Le cours des actions du jeudi de 0,70 \$ est le plus haut de la semaine.
C. Le cours des actions du vendredi de 0,60 \$ est le plus bas de la semaine.
D. Toutes les affirmations sont vraies
5. Un lanceur de baseball est classé par son MPM (moyenne de points mérités). Trois lanceurs ont des MPM de 2,08; 2,83 et 2,03. Lequel de ces MPM ci-dessous serait meilleur (le plus bas) que tous ceux-ci?

A. 2,10
B. 2,38
C. 2,02
D. 2,88